

18. Bolyai Farkas Országos Multidiszciplináris Tantárgyverseny, 2025, megyei szakasz

Összpontszám 90/90

Minden **csillaggal jelölt mező kitöltése kötelező!**

A munkaidő 60 perc. A továbbjutáshoz legkevesebb 50 pontot kell elérni.

Ezen a szakaszon engedélyezett a számológép használata.

Holtverseny esetén az elsőbbség az 1-14. feladatok összpontszáma alapján dönthető el.

1. Földünk harmadik legnagyobb területű állama

1/1

- Kanada.
- az Amerikai Egyesült Államok.
- Kína.
- Brazília.

2. Az alábbiak közül válaszd ki a legnagyobb területű államot!

1/1

- Brazília
- Ausztrália
- Argentína
- India

3. Az alábbiak közül válaszd ki a legnagyobb népességű államot!

1/1

- Banglades
- Pakisztán
- Nigéria
- Brazília
- Egyéb:

4. Az alábbiak közül válaszd ki azt az országot, amelynek nincs államterületi exklávéja!

1/1

- Spanyolország
- Belgium
- Omán
- Franciaország

3/12/25, 7:52 PM

18. Bolyai Farkas Országos Multidiszciplináris Tantárgyverseny, 2025, megyei szakasz

2/2

5. Az alábbiak közül válaszd ki azt az államot, amely a legnagyobb kizárólagos gazdasági övezettel rendelkezik! 1/1

Kanada

Indonézia

@ Franciaország

Egyesült Királyság

qQGarmN9YKgcptIT061 &pli= 1 &viewscore=AE0z..

6. Az alábbi térképábrán európai törpeállamokat számoztunk meg 1-től 6-ig. 2/2
Ezek közül enklávék



- a 2-es és a 4-es
- az 1-es és a 4-es
- a 4-es és az 5-ös
- a 3-as és az 5-ös számmal jelölt országok.

2/2

7. Ez a két törpeállam köztársaság.

2/2



- A 4-es és a 6-os.
- Az 1-es és a 6-os.
- A 2-es és a 4-es.
- Az 1-es és a 4-es.

2/2

8. Jogi értelemben vett lakosainak száma alapján ez az állam a világ legnagyobb értékű (26128 fő/km²) népsűrűségét jegyezte.

2/2



- Ez a 6-os számú ország.
- Ez az 1-es számú ország.
- Ez az 5-ös számú ország.
- Ez a 2-es számú ország.

2/2

9. Az 1-es számú államnak magyarul több hivatalos névváltozata is van. Az alábbiak közül melyik helytelen?

2/2



- Andorrai Fejedelemség
- Andorrai Köztársaság
- Andorrai Hercegség
- Andorrai Völgyiség

2/2

10. Hányas szám jelöli a világ második legkisebb területű államát?

2/2



- Az 5-ös.
- A 2-es.
- A 4-es.
- Az 1-es.

A felsoroltak

2/2

11. A felsoroltak közül melyik szám jelöli azt az államot, amelynek a hivatalos nyelve a germán nyelvcsaládba tartozik? 2/2



- A 2-es.
- A 3-as.
- Az 5-ös.
- Az 1-es.

A felsoroltak

2/2

12. A katolikus vallás ebben a két országban államvallás.

2/2



- Az 5-ös és a 6-os számúakban.
- Az 5-ös és 4-es számúakban.
- Az 5-ös és a 3-as számúakban.
- Az 5-ös és az 1-es számúakban.

A

2/2

13. A felsoroltak közül melyik szám jelöli azt az államot, amelynek a hivatalos nyelve a katalán? 2/2



- Az 5-ös.
- Az 1-es.
- A 2-es.
- A 4-es.

3/12/25, 7:52 PM

18. Bolyai Farkas Országos Multidiszciplináris Tantárgyverseny, 2025, megyei szakasz

felsorolt

14. Hányas számú az az állam, amelynek a fő hivatalos nyelve a sémi nyelvek 2/2
közé (sémi-hámi nyelvcsaládba) tartozik?



- A 4-es.
- Az 5-ös.
- A 2-es.
- A 6-os

15. A felsorolt államokban 2020 óta valamilyen fegyveres konfliktus zajlik. Az oszlopok fejlécében megfogalmazottak közül jelölj meg két olyan jellemzőt amely igaz ezekre! (Figyelem! **6 oszlop** van.)

	Etnikai és vallási alapú polgárháború	Politikai hatalomért folytatott polgárháború	Nemzetközi politikai és katonai befolyásért folytatott konfliktus	Természeti erőforrásokért folytatott nemzetközi konfliktus	Illegális gazdasági tevékenység folytató szervezetek elleni polgárháború
A Golán-fennsík válsága Izrael és Szíria között	<input type="checkbox"/>	<input type="checkbox"/>	<input type="checkbox"/>	<input checked="" type="checkbox"/>	<input type="checkbox"/>
Oroszország és Ukrajna közötti háború	<input type="checkbox"/>	<input type="checkbox"/>	<input checked="" type="checkbox"/>	<input checked="" type="checkbox"/>	<input type="checkbox"/>
Kongó Demokratikus Köztársaság és Ruanda közötti konfliktus	<input type="checkbox"/>	<input type="checkbox"/>	<input type="checkbox"/>	<input checked="" type="checkbox"/>	<input checked="" type="checkbox"/>
Myanmari állami és félkatonai szervezetek közötti konfliktus	<input checked="" type="checkbox"/>	<input checked="" type="checkbox"/>	<input type="checkbox"/>	<input type="checkbox"/>	<input type="checkbox"/>
Jemeni állami és félkatonai szervezetek közötti konfliktus	<input type="checkbox"/>	<input type="checkbox"/>	<input type="checkbox"/>	<input type="checkbox"/>	<input checked="" type="checkbox"/>

3/12/25, 7:52 PM

18. Bolyai Farkas Országos Multidiszciplináris Tantárgyverseny, 2025, megyei szakasz

felsorolt

Mexikói

állami és

félkatonai

szervezetek

közötti

konfliktus

16. Az alábbiak közül válaszd ki azt az országot, amelyben a legnagyobb a születések **száma!**

2/2

- Kína
- Nigéria
- Indonézia
- Kongó Demokratikus Köztársaság

17. Az alábbiak közül válaszd ki azt az országot, amelyben a legnagyobb a születések aránya! 2/2

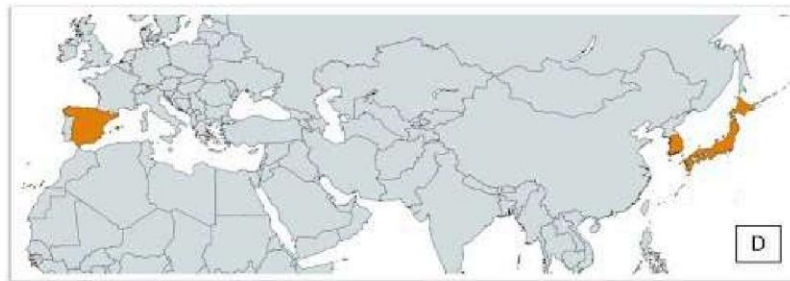
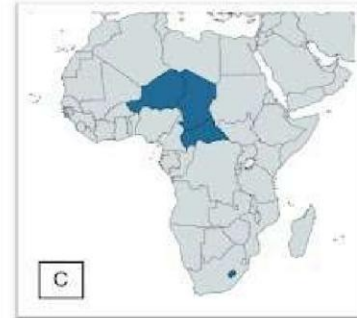
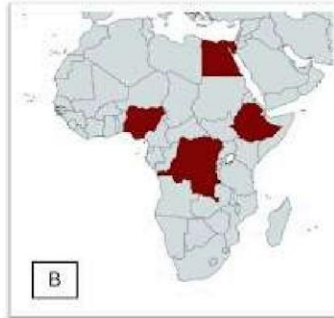
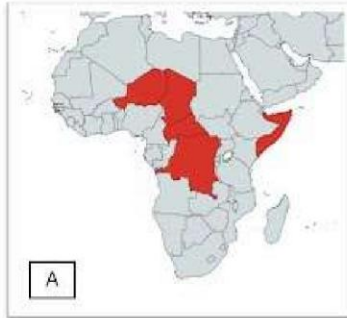
Kína

Nigéria

Indonézia

@ Kongó Demokratikus Köztársaság

18. Az alábbi országcsoportok is egy-egy demográfiai világrangsort vezetnek. Melyik, milyen szempontból számít "élbolynak"?



	A	B	C	D	Pontszám
Születéskor várható leghosszabb női élettartamúak	<input type="radio"/>	<input type="radio"/>	<input type="radio"/>	<input checked="" type="radio"/>	2/2
100 millió főnél nagyobb lakosságú afrikai országok	<input type="radio"/>	<input checked="" type="radio"/>	<input type="radio"/>	<input type="radio"/>	2/2
Legnagyobb termékenységi ráta (≥ 6 nő/gyermek-szülés)	<input checked="" type="radio"/>	<input type="radio"/>	<input type="radio"/>	<input type="radio"/>	2/2
Világviszonylatban a legkisebb átlagos életremény	<input type="radio"/>	<input type="radio"/>	<input checked="" type="radio"/>	<input type="radio"/>	2/2

20. Laosz területe 236800 km². 2022-ben lakossága 7560000 fő volt. Mekkora volt az ország népsűrűsége? 2/2

- 36,4 fő/km²
- 39,5 fő/km²
- 44,3 fő/km²
- 31,9 fő/km²

21. 2022-ben Lengyelországban 318 604 élveszületést jegyeztek. 2/2
Abban az évben a lakosság száma 38 388 000 fős volt. Mekkora volt 2022-ben Lengyelországban a születési arány?

- 8,92‰
- 8,34‰
- 8,29‰
- 8,55‰

22.* 2022-ben Pakisztán lakossága 243700670 fős volt. Abban az évben 2/2
6628658 elveszületést jegyeztek. Mekkora volt az ország születési aránya 2022-
ben?

**Helytelen adatközlés miatt ennél a feladatnál minden versenyzőnek hivatalból 2
pont járt.*

- 41,1‰
- 38,5‰
- 12,7‰
- 27,2‰

23. A világ második legnagyobb muzulmán lakosságú országa 2024-ben 2/2

Szaúd-Arábia.

Pakisztán.

Indonézia.

India.

24. A felsorolt országok közül válaszd ki azt, amelyben a muszlim lakosságon belül a legnagyobb a síita vallásúak aránya!

2/2

Jemen

Pakisztán.

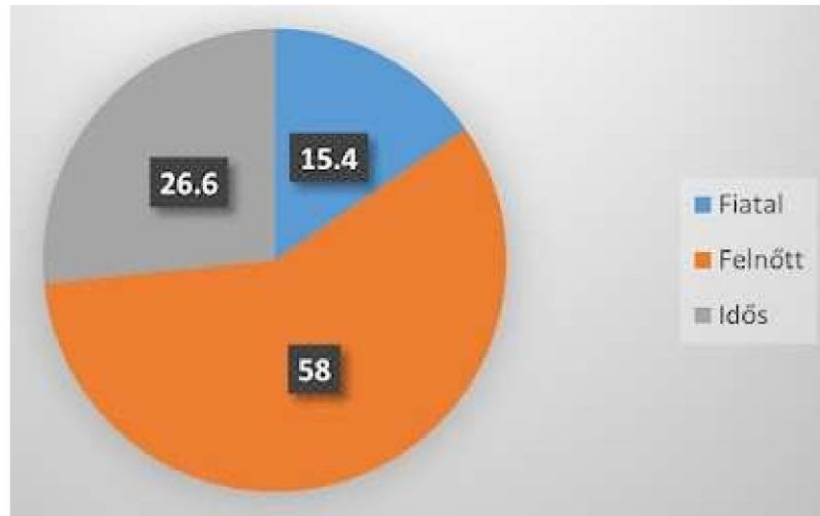
@ Irak

Egyesült Arab Emírségek

<https://docs.google.com/forms/d/e/1FAIpQLSdLoW1qQGarmN9YKgcptIT0616/27>

2/2

25. Ennek az országnak 2022-ben **17,9 millió lakosa** volt. **Városi lakosságának aránya 92,9%**. Lakosainak 15,4 % fiatal (0-14 éves); 58%-a felnőtt (15-65 éves); 26,6%-a idős (65 ≤ éves)

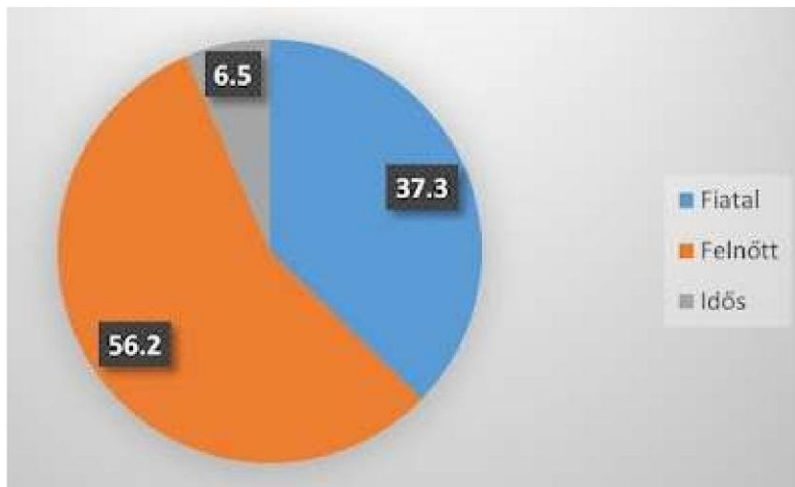


- Kanada
- Ecuador
- Spanyolország
- Hollandia

2/2

26. Ennek az országnak 2022-ben **240,5 millió fős lakossága volt**, városi lakosságának aránya pedig körülbelül **37,7%**. Korosztályok szerinti népegyenlőség szerkezet (%-ban) az alábbi diagram szemlélteti. Melyik országról van szó?

2/2



- Indonézia
- Pakisztán
- Egyiptom
- Niger

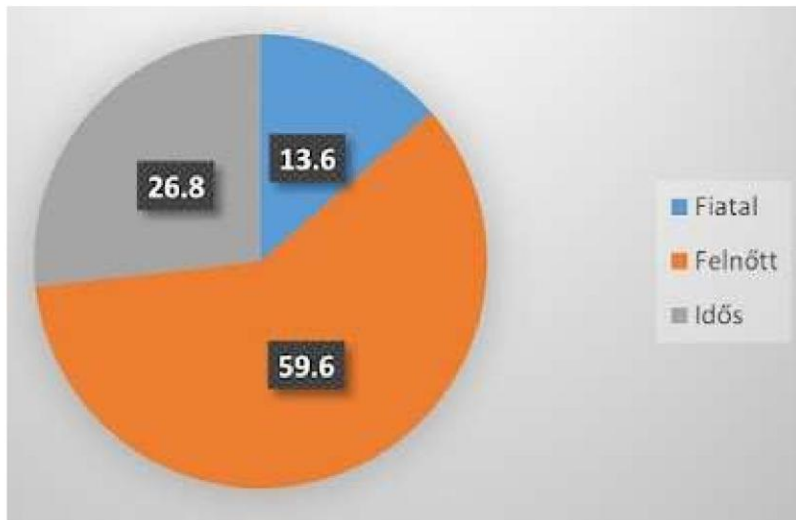
2/2

FAIpQLSdLoW1

&viewscore=AE0...


27. Melyik ország demográfiai adatai lehetnek az alábbiak? 2022-ben **teljes lakossága 47,8 millió főnyi** volt, városi lakosságának aránya pedig körülbelül **81,3%**. Korosztályok szerinti népességszerkezet (%-ban) az alábbi diagram szemlélteti.

2/2



- Amerikai Egyesült Államok
- Brazília
- Spanyolország
- Hollandia

28. A hagyományos lakóépületek és hajlékok a szerkezetükkel, tájolásukkal, építőanyagaikkal az élettér földrajzi jellemzőihez alkalmazkodnak. A képen látható lakás rendeltetésű szerkezetekről állapítsd meg, hogy melyik milyen élettérre jellemző!




Forrás: <https://habitatio2.blogspot.com/>

Japán középső hegyvidéke erősen csapadékos, nagy éves hőingásokkal	Az Anatóliai- fennsík száraz, forró nyarú éghajlatán	A Kelet- európai- síkság hideg kontinentális, hosszú telű éghajlatán	Líbia trópusi sivatagi éghajlathoz alkalmazkodó	Fidzsi- szigetek csapadékos, szeles- vihatos éghajlatához alkalmazkodó	Az Améri- kai déli mellékföld árteré- forró trópusi átlagos éghaj- latához alkalm
--	--	---	--	--	---

A	<input type="radio"/>	<input type="radio"/>	<input type="radio"/>	<input checked="" type="radio"/>	<input type="radio"/>	<input type="radio"/>
B	<input type="radio"/>	<input type="radio"/>	<input checked="" type="radio"/>	<input type="radio"/>	<input type="radio"/>	<input type="radio"/>
C	<input type="radio"/>	<input type="radio"/>	<input type="radio"/>	<input type="radio"/>	<input type="radio"/>	<input type="radio"/>
D	<input checked="" type="radio"/>	<input type="radio"/>	<input type="radio"/>	<input type="radio"/>	<input type="radio"/>	<input type="radio"/>
E	<input type="radio"/>	<input checked="" type="radio"/>	<input type="radio"/>	<input type="radio"/>	<input type="radio"/>	<input type="radio"/>

☐

29. Rendeld a megjelölt városi agglomerációk alá a földrajzi fekvésüknek megfelelő betűt az 1-5. sorból, majd a további négy sorból válassz ki egy-egy rájuk érvényes besorolást!



	Kuangcsou- Hsziangkong (Kanton- Hongkong)	Tokaido folyosó agglomerációja	Karacsi agglomeráció	Sanghaj- Nancsing agglomeráció	Csungking agglomeráció
A	<input type="checkbox"/>	<input type="checkbox"/>	<input checked="" type="checkbox"/>	<input type="checkbox"/>	<input type="checkbox"/>
B	<input type="checkbox"/>	<input type="checkbox"/>	<input type="checkbox"/>	<input type="checkbox"/>	<input checked="" type="checkbox"/>
C	<input checked="" type="checkbox"/>	<input type="checkbox"/>	<input type="checkbox"/>	<input type="checkbox"/>	<input type="checkbox"/>
D	<input type="checkbox"/>	<input type="checkbox"/>	<input type="checkbox"/>	<input checked="" type="checkbox"/>	<input type="checkbox"/>
E	<input type="checkbox"/>	<input checked="" type="checkbox"/>	<input type="checkbox"/>	<input type="checkbox"/>	<input type="checkbox"/>
Egy központi nagyváros körül kialakult városi agglomeráció	<input type="checkbox"/>	<input type="checkbox"/>	<input checked="" type="checkbox"/>	<input type="checkbox"/>	<input checked="" type="checkbox"/>
Több nagyvárosi	<input type="checkbox"/>	<input type="checkbox"/>	<input type="checkbox"/>	<input type="checkbox"/>	<input type="checkbox"/>

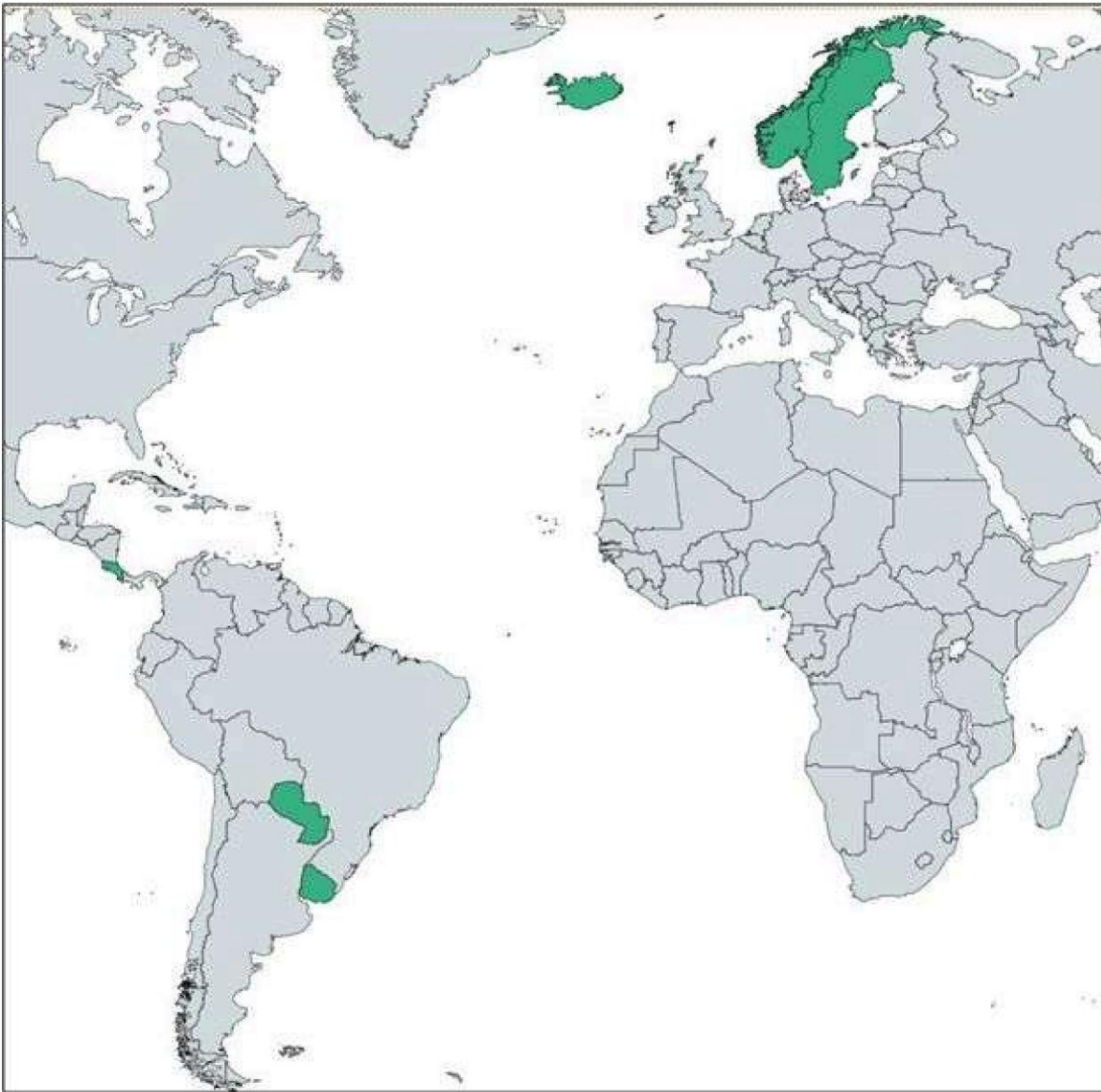
Magyarországi központtal rendelkező konurbáció	<input checked="" type="checkbox"/>	<input type="checkbox"/>	<input type="checkbox"/>	<input checked="" type="checkbox"/>	<input type="checkbox"/>
Megalopolisz					
Megalopolisz	<input type="checkbox"/>	<input checked="" type="checkbox"/>	<input type="checkbox"/>	<input type="checkbox"/>	<input type="checkbox"/>

30. A felsorolt országcsoportok tagjai egy-egy természeti erőforrásból a legnagyobb mennyiségekkel rendelkeznek. Kinek miből van a legtöbb? Kattints a megfelelő oszlopba!

	Legnagyobb bauxit tartalékok	Legnagyobb földgázkészletek	Legnagyobb kőolajkészletek	Legnagyobb rézérc tartalékok	Legnagy uránkész
Oroszország, Irán, Katar, Türkmenisztán	<input type="radio"/>	<input checked="" type="radio"/>	<input type="radio"/>	<input type="radio"/>	<input type="radio"/>
Guinea, Ausztrália, Vietnam, Indonézia, Brazília	<input checked="" type="radio"/>	<input type="radio"/>	<input type="radio"/>	<input type="radio"/>	<input type="radio"/>
Chile, Kína, Peru, Ausztrália	<input type="radio"/>	<input type="radio"/>	<input type="radio"/>	<input checked="" type="radio"/>	<input type="radio"/>
Szaúd-Arábia, Venezuela, Irán, Irak, Kuvait	<input type="radio"/>	<input type="radio"/>	<input checked="" type="radio"/>	<input type="radio"/>	<input type="radio"/>
Ausztrália, Kazahsztán, Kanada, Oroszország, Namíbia	<input type="radio"/>	<input type="radio"/>	<input type="radio"/>	<input type="radio"/>	<input checked="" type="radio"/>



30+1. Íme a legutolsó "élboly"! 😊 Milyen gazdasági ágazatban járnak élen a *1/1
térképvázlaton feltüntetett országok?



- Lakosságarányosan évente a legtöbb turista befogadói.
- Államterületük legnagyobb része természetvédelmi terület.
- Energiatermelésük a legnagyobb arányban alapul fenntartható forrásokra.
- A nemzetközi földrajzversenyek gyakori dobogós helyezettei.

Az űrlapot az Ön domainjén kívül hozták létre. - [Felhasználási feltételek](#) - [Adatvédelmi irányelvek](#)

Does this form 100k suspicious? [Jelentés](#)

Google Úrlapok

