

**19. Bolyai Farkas Országos Multidiszciplináris Tantárgyverseny, 2026, megyei szakasz, tétel-javítókulcs**

5. Az ábra alapján társítsd a számokkal jelölt határokat, a megfelelő határ típussal. \*

4 pont



	természetes vízi	mesterséges geometriai	természetes hegygerinc	mesterséges csillagászati
1.	<input type="checkbox"/>	<input type="checkbox"/>	<input type="checkbox"/>	<input checked="" type="checkbox"/>
2.	<input type="checkbox"/>	<input type="checkbox"/>	<input checked="" type="checkbox"/>	<input type="checkbox"/>
3.	<input type="checkbox"/>	<input checked="" type="checkbox"/>	<input type="checkbox"/>	<input type="checkbox"/>
4.	<input checked="" type="checkbox"/>	<input type="checkbox"/>	<input type="checkbox"/>	<input type="checkbox"/>



19. Bolyai Farkas Országos Multidiszciplináris Tantárgyverseny, 2026, megyei szakasz, tétel-javítókulcs

6. Az oszlopokban jelöld be annak az államnak/területnek a számát amelyre a sorban \* 6 pont levő kijelentés igaz.



	1	2	3	4	5	6
Szovjet utódállam	<input type="radio"/>	<input type="radio"/>	<input type="radio"/>	<input type="radio"/>	<input type="radio"/>	<input checked="" type="radio"/>
Exklávé	<input checked="" type="radio"/>	<input type="radio"/>	<input type="radio"/>	<input type="radio"/>	<input type="radio"/>	<input type="radio"/>
Csehszlovák utódállam	<input type="radio"/>	<input type="radio"/>	<input type="radio"/>	<input type="radio"/>	<input checked="" type="radio"/>	<input type="radio"/>
Egyesüléssel jött létre	<input type="radio"/>	<input checked="" type="radio"/>	<input type="radio"/>	<input type="radio"/>	<input type="radio"/>	<input type="radio"/>
Enklávék vannak a területén	<input type="radio"/>	<input type="radio"/>	<input type="radio"/>	<input checked="" type="radio"/>	<input type="radio"/>	<input type="radio"/>
Jugoszláv utódállam	<input type="radio"/>	<input type="radio"/>	<input checked="" type="radio"/>	<input type="radio"/>	<input type="radio"/>	<input type="radio"/>



**19. Bolyai Farkas Országos Multidiszciplináris Tantárgyverseny, 2026, megyei szakasz, tétel-javítókulcs**

7. Jelöld be a MERCOSUR 2024 júliusától teljes jogú tagállamait. \*

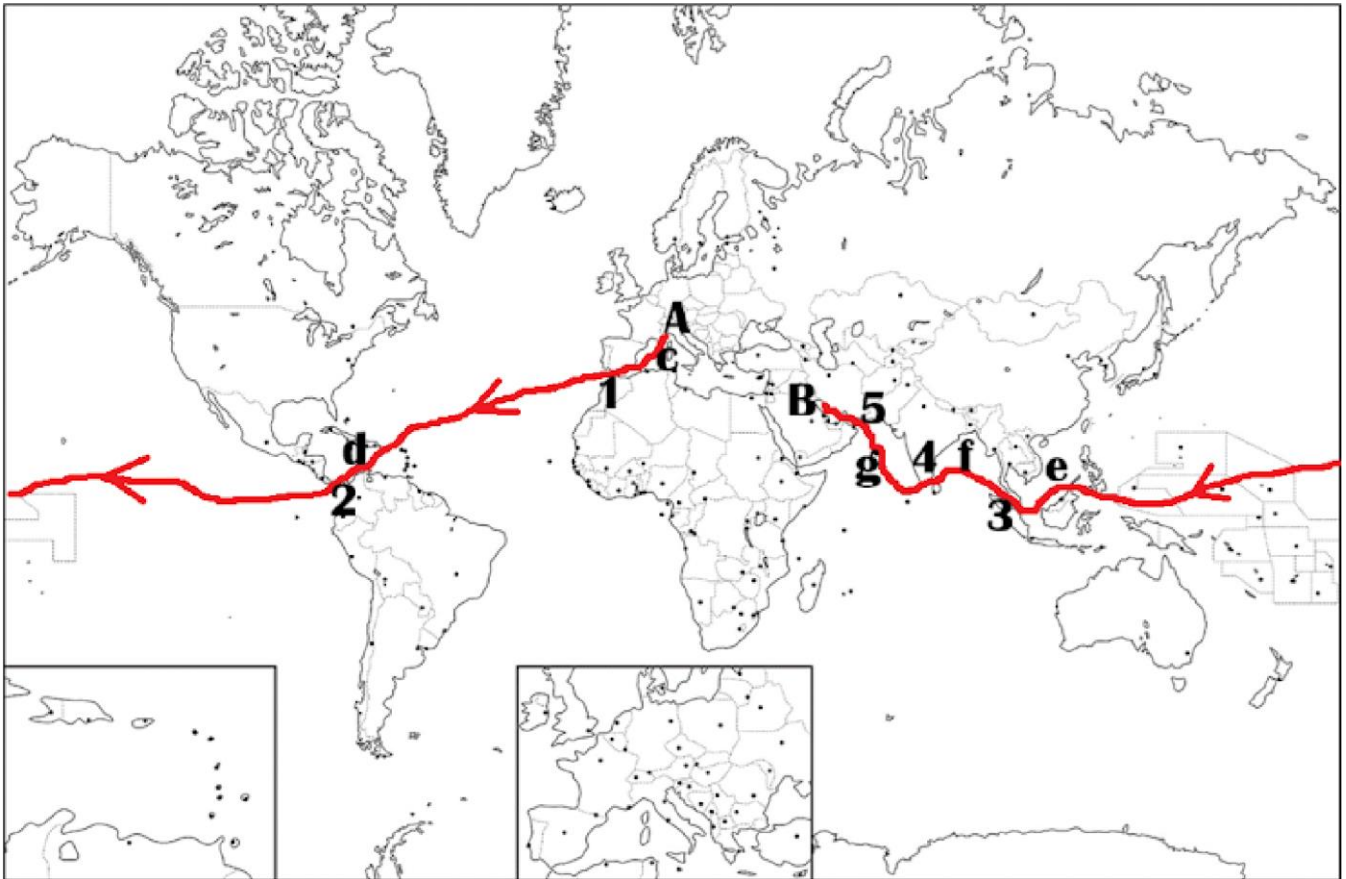
4 pont

- Brazilia
- Peru
- Kolumbia
- Argentína
- Paraguay
- Bolívia
- Chile
- Suriname



**19. Bolyai Farkas Országos Multidiszciplináris Tantárgyverseny, 2026, megyei szakasz, tétel-javítókulcs**

8. Az A-B útvonalon nevezd meg a számokkal jelölt tengersizorokat/csatorna és a \* 10 pont  
betűkkel jelölt tengereket/öblöket.

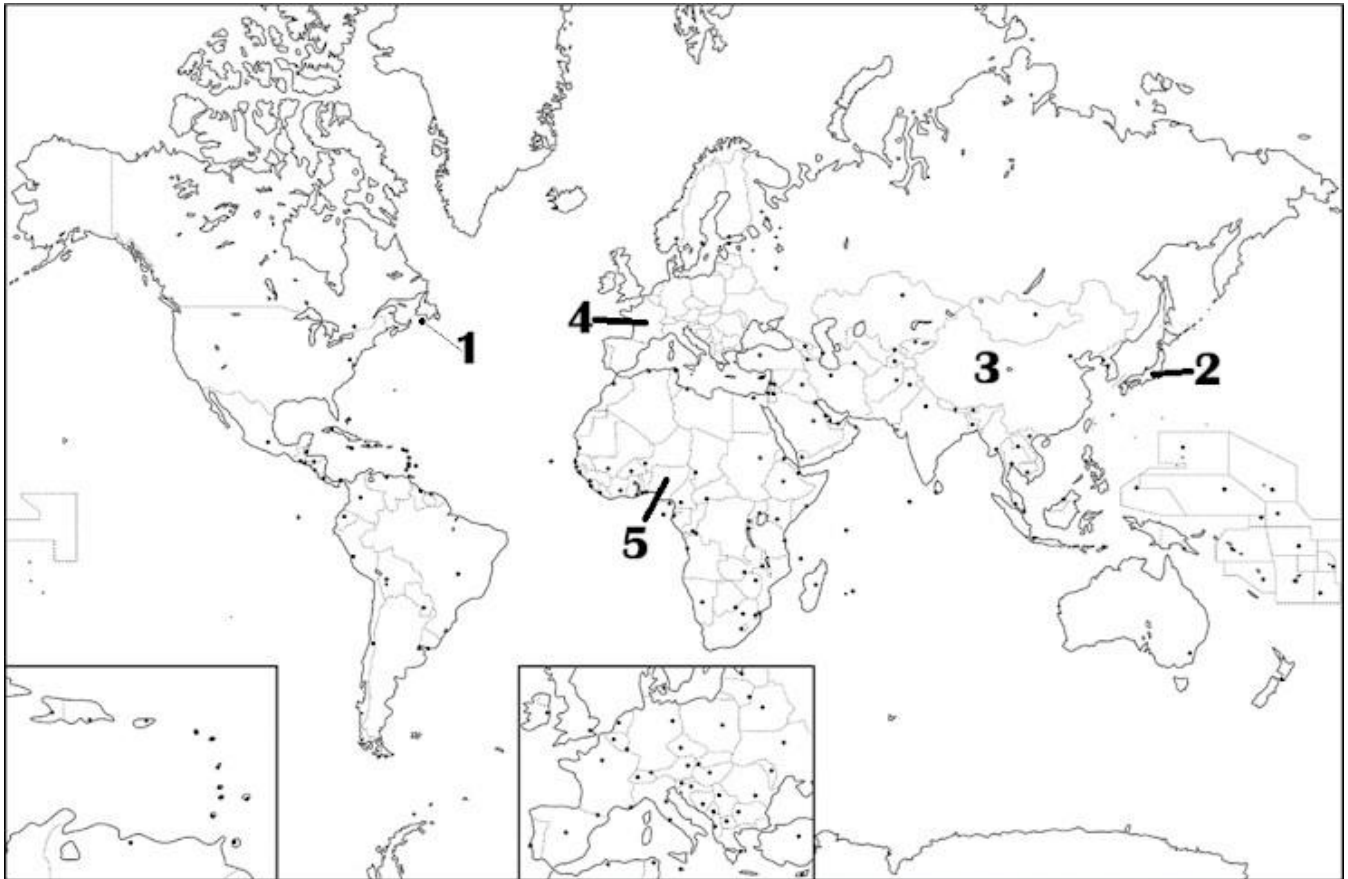


1-Gibraltár, 2-Panama, 3-Malaka, 4-Palk, 5-Hormuzi, c-Földközi, d-Karib, e-Dél Kínai, f-Bengáli, g-Arab



19. Bolyai Farkas Országos Multidiszciplináris Tantárgyverseny, 2026, megyei szakasz, tétel-javítókulcs

9. Az oszlopokban jelöld be annak az államnak/területnek a számát amelyre a sorban \* 5 pont levő kijelentés igaz.



	1	2	3	4	5
Szövetségi köztársaság	<input type="radio"/>	<input type="radio"/>	<input type="radio"/>	<input type="radio"/>	<input checked="" type="radio"/>
Nagy népességű	<input type="radio"/>	<input type="radio"/>	<input type="radio"/>	<input checked="" type="radio"/>	<input type="radio"/>
Függő terület	<input checked="" type="radio"/>	<input type="radio"/>	<input type="radio"/>	<input type="radio"/>	<input type="radio"/>
Királyság	<input type="radio"/>	<input checked="" type="radio"/>	<input type="radio"/>	<input type="radio"/>	<input type="radio"/>
Kontinens területű	<input type="radio"/>	<input type="radio"/>	<input checked="" type="radio"/>	<input type="radio"/>	<input type="radio"/>



**19. Bolyai Farkas Országos Multidiszciplináris Tantárgyverseny, 2026, megyei szakasz, tétel-javítókulcs**

10. Egy település év eleji lakossága 6400 fő, az év folyamán született 110 fő, elhunyt 63 \* 5 pont  
fő akiből 3 egy év alatti (csecsemő). Mennyi a település csecsemőhalandósága (az  
érték kerekítve) ?

17‰

27‰

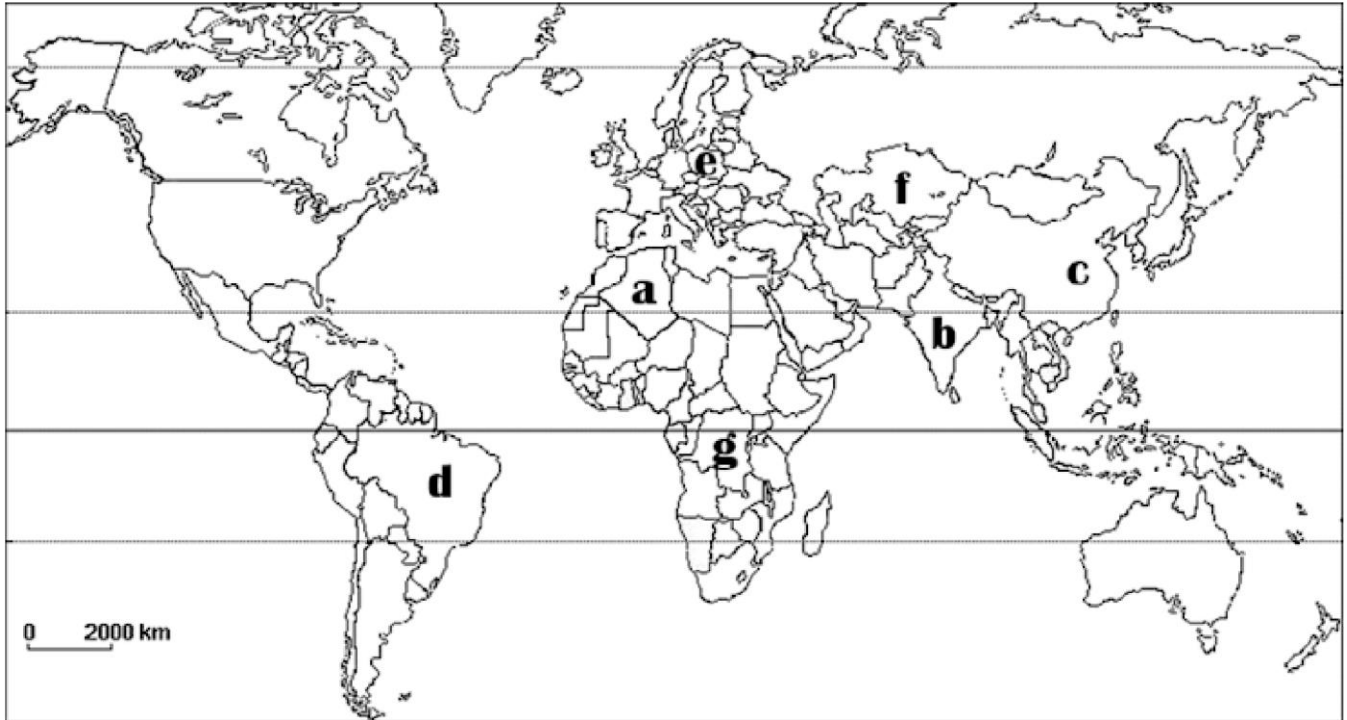
10‰



19. Bolyai Farkas Országos Multidiszciplináris Tantárgyverseny, 2026, megyei szakasz, tétel-javítókulcs

11. Mely nyelvcsaládba tartoznak az **a,b,c,d,e,f,g** betűkkel megjelölt országok uralkodó nyelvei ?

\* 14 pont



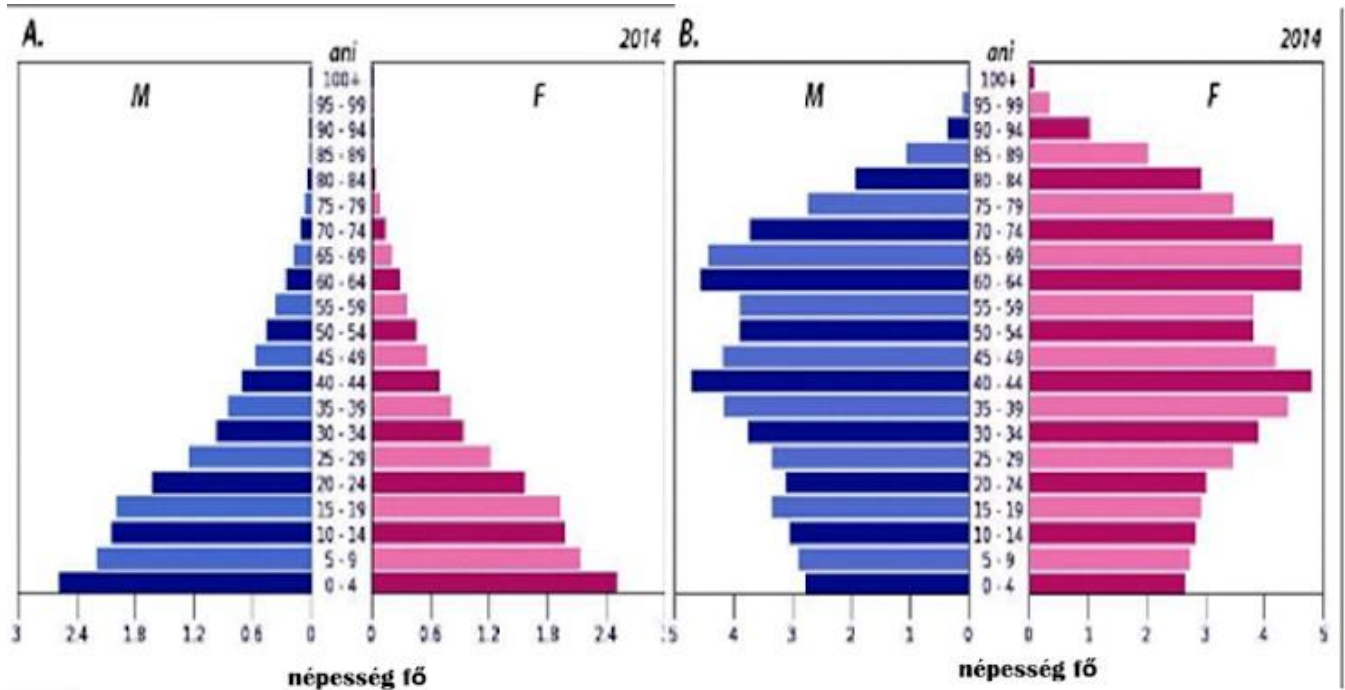
a-sémi-hámi (afroázsiai), b-indóeurópai, c-sino-tibeti, d-indóeurópai e-indóeurópai f-altáji, g-fekete-afrikai(niger-kongói)



19. Bolyai Farkas Országos Multidiszciplináris Tantárgyverseny, 2026, megyei szakasz, tétel-javítókulcs

12. Jelöld a kijelentés mellé a jellemző korpíramis betűjét (A vagy B). \*

6 pont



	A	B
Alakja urna (hagyma)	<input type="checkbox"/>	<input checked="" type="checkbox"/>
előregedő népesség	<input type="checkbox"/>	<input checked="" type="checkbox"/>
20-24 évesek 3,5 mil.fő	<input checked="" type="checkbox"/>	<input type="checkbox"/>
magas natalitás	<input checked="" type="checkbox"/>	<input type="checkbox"/>
magas születéskor várható élettartam	<input type="checkbox"/>	<input checked="" type="checkbox"/>
fejletlen ország	<input checked="" type="checkbox"/>	<input type="checkbox"/>



19. Bolyai Farkas Országos Multidiszciplináris Tantárgyverseny, 2026, megyei szakasz, tétel-javítókulcs

13. Társítsd a városok mellé a megfelelő megalopolisz számát a térképről. \*

4 pont



	1	2	3	4
Los Angeles	<input type="checkbox"/>	<input checked="" type="checkbox"/>	<input type="checkbox"/>	<input type="checkbox"/>
Baltimore	<input checked="" type="checkbox"/>	<input type="checkbox"/>	<input type="checkbox"/>	<input type="checkbox"/>
Kyoto	<input type="checkbox"/>	<input type="checkbox"/>	<input type="checkbox"/>	<input checked="" type="checkbox"/>
Cleveland	<input type="checkbox"/>	<input type="checkbox"/>	<input checked="" type="checkbox"/>	<input type="checkbox"/>

14. Írd le az alábbi (a,b,c,d) város fejlődési szakaszok nevét: \*

4 pont

- a) a városból és elővárosokból a falvakra költöznek
- b) a falvakból és elővárosokból egyesek visszaköltöznek a városba
- c) a városból az elővárosokba költöznek
- d) a falvakból sokan a városra költöznek

a-dezurbanizáció, b-reurbanizáció, c-szuburbanizáció, d-városrobbanás



19. Bolyai Farkas Országos Multidiszciplináris Tantárgyverseny, 2026, megyei szakasz, tétel-javítókulcs

17.A városok fizionómiája alapján társítsd a kontinenseket a képek számával. \*

4 pont



1



2



3



4

	1	2	3	4
Észak Amerika	<input type="radio"/>	<input type="radio"/>	<input type="radio"/>	<input checked="" type="radio"/>
Dél Amerika	<input type="radio"/>	<input type="radio"/>	<input checked="" type="radio"/>	<input type="radio"/>
Európa	<input checked="" type="radio"/>	<input type="radio"/>	<input type="radio"/>	<input type="radio"/>
Észak Afrika	<input type="radio"/>	<input checked="" type="radio"/>	<input type="radio"/>	<input type="radio"/>



**19. Bolyai Farkas Országos Multidiszciplináris Tantárgyverseny, 2026, megyei szakasz, tétel-javítókulcs**

18. Jelöld be mely korból származnak az alábbi városok. \*

12 pont

	újkor	középkor	ókor
Machu Picchu	<input type="checkbox"/>	<input checked="" type="checkbox"/>	<input type="checkbox"/>
Philadelphia	<input checked="" type="checkbox"/>	<input type="checkbox"/>	<input type="checkbox"/>
Pozsony	<input type="checkbox"/>	<input checked="" type="checkbox"/>	<input type="checkbox"/>
Alexandria	<input type="checkbox"/>	<input type="checkbox"/>	<input checked="" type="checkbox"/>
Szentpétervár	<input checked="" type="checkbox"/>	<input type="checkbox"/>	<input type="checkbox"/>
Catal Hüyük	<input type="checkbox"/>	<input type="checkbox"/>	<input checked="" type="checkbox"/>